

# CONTA PER 5 FINO A 100

Completa gli spazi con i numeri mancanti ma prima rispondi a queste domande:

- che numero hai sulle dita delle tue mani (entrambe)?.....
- che numero c'è sulle dita delle mani di 2 persone?.....
- che numero avete sulle dita delle mani di tutti gli alunni della classe?.....

.....

*by Matematica  
in gioco*



15



45



55

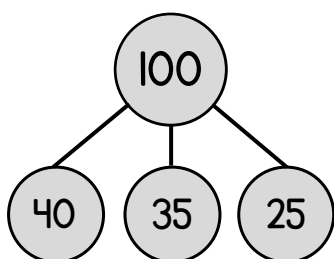


100

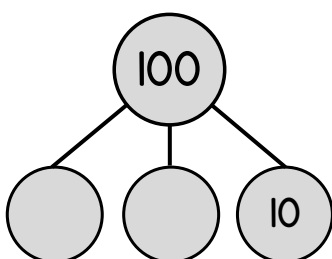
# GRAPPOLI NUMERICI DEL 100

*by Matematica  
in gioco*

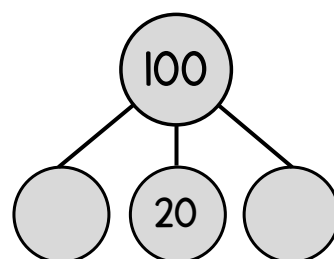
Completa i grappoli numerici con quantità che unite formino 100 poi scrivi ciò che ottieni sotto forma di uguaglianza



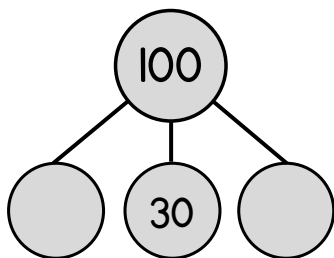
$$100 = 40 + 35 + 25$$



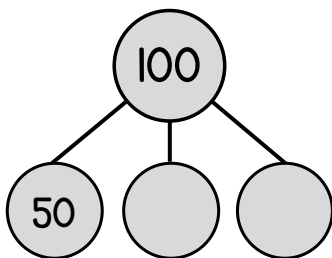
\_\_\_\_\_



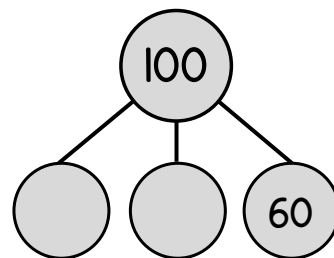
\_\_\_\_\_



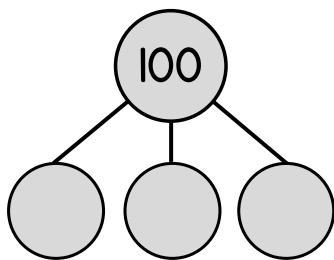
\_\_\_\_\_



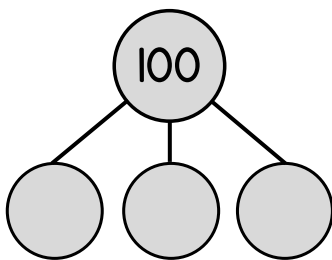
\_\_\_\_\_



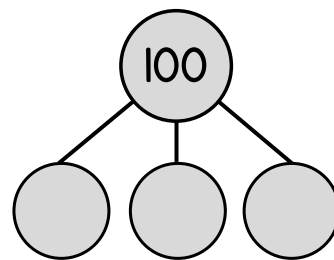
\_\_\_\_\_



\_\_\_\_\_



\_\_\_\_\_



\_\_\_\_\_

